

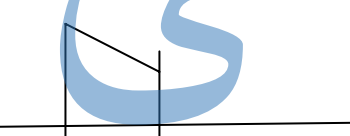
نام : .....  
 بسمه تعالی  
 نام خانوادگی : .....  
 وزارت آموزش و پرورش  
 شاهد  
 ماده درسی : ریاضی  
 استان آذربایجانغربی

نام آموزشگاه : پسرانه  
 اداره کل آموزش و پرورش

کلاس : چهارم 1

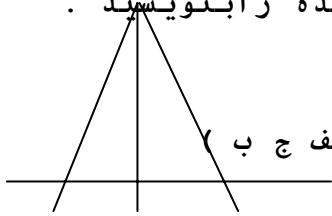
معاونت

اداره کل و مدیریت آموزش و پرورش خوی  
 تاریخ امتحان  
 تعداد سوال :  
 تعداد صفحات : 2  
 مدت امتحان :  
 نوبت امتحانی :  
 دقیقه :  
 صفحه : 1

	<p>1 با توجه به عدمقابل به سوالات پاسخ دهید.          الف) عدد رابه حروف بنویسید .          ب) رقم صدگان هزار آن چند است ؟ .....          کدام رقم بیشترین ارزش مکانی را دارد ؟ .....          ج) <span style="border: 1px solid black; padding: 2px;">7043579</span></p>	1						
	<p>2 جدول زیر را کامل کنید .</p> <table border="1" style="margin-left: auto; margin-right: auto;"> <tr> <td>رقم</td> <td>حروف</td> </tr> <tr> <td>64002078</td> <td></td> </tr> <tr> <td></td> <td>پنج میلیون و نهصد هزار و صد و بیست و یک</td> </tr> </table>	رقم	حروف	64002078			پنج میلیون و نهصد هزار و صد و بیست و یک	2
رقم	حروف							
64002078								
	پنج میلیون و نهصد هزار و صد و بیست و یک							
	<p>3 در شکل زیر چند پاره خط و چند نیم خط و چند نقطه وجود دارد ؟          پاره خط : .....          نیم خط : .....</p> 	3						
	<p>4 چرا نمی توانیم پاره خط را ادامه دهیم ولی خط راست را می توانیم ادامه دهیم ؟</p>	4						
	<p>5 با توجه به عبارت زیر مسئله ای بسازید و سپس آن را حل کنید ؟  <math>(175) =</math></p>	5						
	<p>6 مجموع پول سه نفر 6500 تومان است . اگر اولی 3000 تومان و دومی 1800 تومان کمتر از اولی داشته باشد . پول نفر سوم چند تومان است ؟</p>	6						
	<p>7 در جای خالی کلمه مناسب بنویسید .          الف) زاویه باز از زاویه تند ..... است .          ب) برای تشخیص زاویه راست از ..... استفاده می کنیم .          ج) نیم خطی که زاویه رابه دو قسمت مساوی تقسیم می کند</p>	7						

..... می گویند .

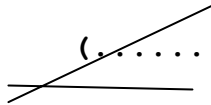
8 به شکل زیر نگاه کنید و نوع زاویه های خواسته شده را بنویسید .



( الف ر م ) .....

( الف ش د ) ( الف ج ب ) .....

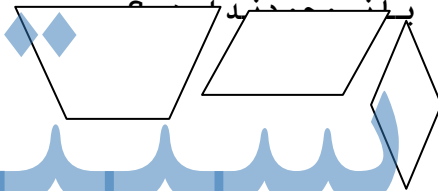

9 زاویه مقابل رابه سه روش نام ببرید .



زاویه (.....) زاویه (.....)

زاویه (.....)

10 شکلی رسم کنید که دوزاویه راست و یک زاویه تند و یک زاویه باز داشته باشد .



11 در کدام یک از شکل های زیر زاویه بلندتر است ؟

12 مریم 3570 تومان پول دارد . پول برادرش 83 تومان کم تر از پول مریم است . برادر مریم چند تومان پول دارد ؟

13 عددی بنویسید که یکان آن با یکان هزار و دهگان آن با دهگان هزار و صدگان آن با صدگان هزار برابر باشد ؟

علامت ( < = > ) بگذارید .



75025



750250



830102



803012

8090

هشتصد هزار و نه

موفق باشید : قاسمی